

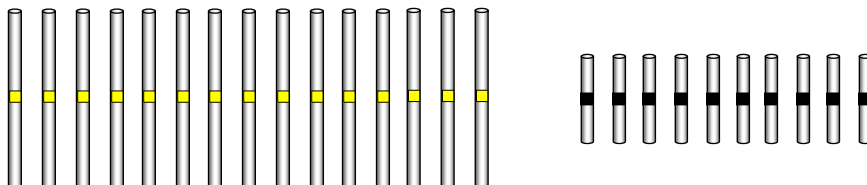
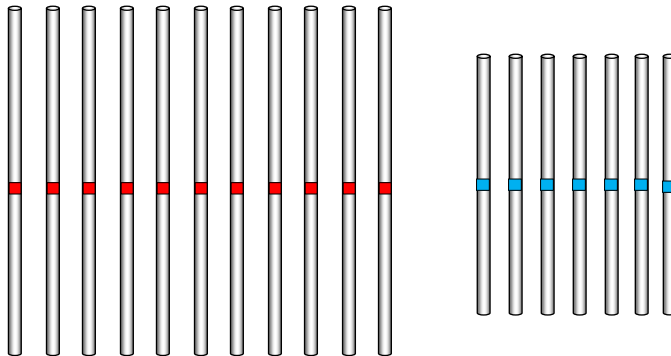
Fyrhörningar



Uppgifter:


1. **Kan ni** bygga en mindre och en större **romb** med pinnarna? Låt figurerna stå kvar.
2. **Kan ni** bygga en mindre och en större **parallelogram** med pinnarna? Låt figurerna stå kvar.
3. **Kan ni** bygga en mindre och en **parallelltrapets** med pinnarna? Låt figurerna stå kvar.

Byggmaterial




ROMB

En romb har alla sidor lika långa och inga räta hörn (inte 90°). Motstående sidor är parallella.



PARALLELLOGRAM

En parallelogram har motstående sidor lika långa och inga räta hörn (inte 90°). Motstående sidor är parallella.



PARALLELLTRAPETS

En parallelltrapets har två sidor parallella.

